

このプリントの使い方

- ①まずは自力で問題を解く
- ②下のQRコードから解説動画を見て「先生の解き方」を「真似する」
- ③もし間違えていたらもう一度動画を見ずに解く
- ④翌日に同じ問題を何も見ずに解く

今日の日付：_____年_____月_____日_____曜日

この問題を解くのは：_____回目

特訓 18 | 折り返した図形の角度【青山学院中 2023 年】

図 1、直角二等辺三角形。

図 2、折る。

図 3、CD と BD が重なるように折る。

図 4、 $\triangle BED$ を DB で折る。色のついた部分の角度を求めよ。

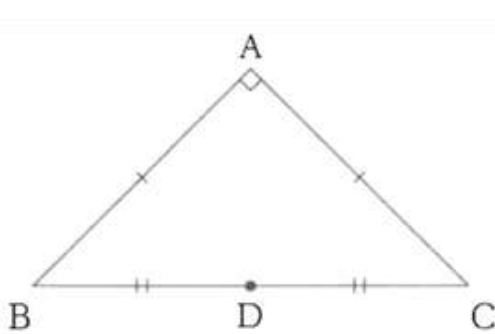


図 1

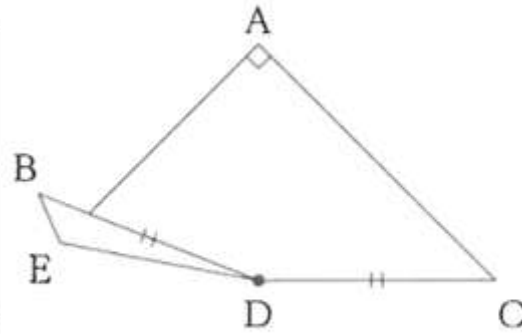


図 2

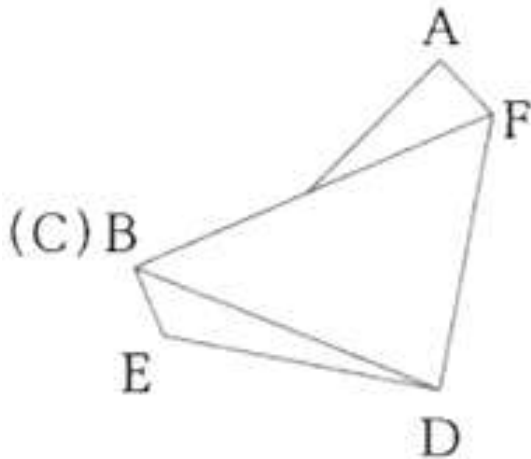


図 3

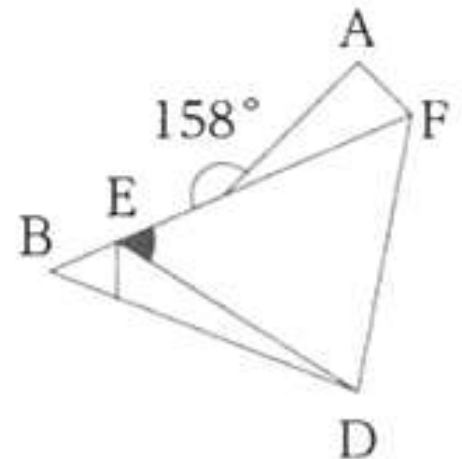


図 4

解説動画は下の QR コードから探してみてね。

